
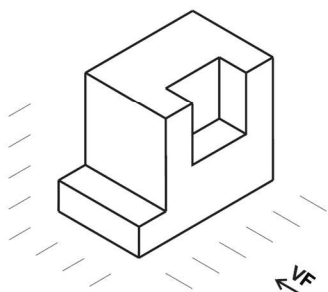
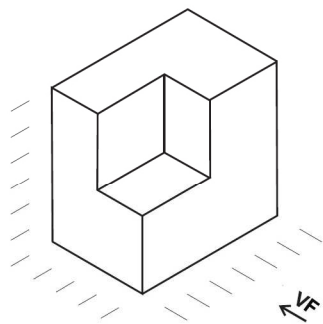


**EXERCÍCIO 08 - DESENHE TODAS AS POSSÍVEIS VISTAS ORTOGRÁFICAS DAS PEÇAS ABAIXO**  
VISTA FRONTAL (VF), VISTA LATERAL DIREITA (VLD), VISTA LATERAL ESQUERDA (VLE), VISTA POSTERIOR (VP), VISTA INFERIOR (VI) E VISTA SUPERIOR (VS) | OBS: CADA ESPAÇAMENTO REPRESENTA UMA UNIDADE DE MEDIDA



**FACULDADE INDEPENDENTE DO NORDESTE - FAINOR**

DISCIPLINA | TURNO:

DOCENTE: PHILIPPE DO PRADO SANTOS

DISCENTE:

TÍTULO: EXERCÍCIO 08

ESCALA: SEM ESCALA

DATA:

/